

1. Změř a zapiš délku úseček. Délku uveď v milimetrech:

$|AB| = 22 \text{ mm}$

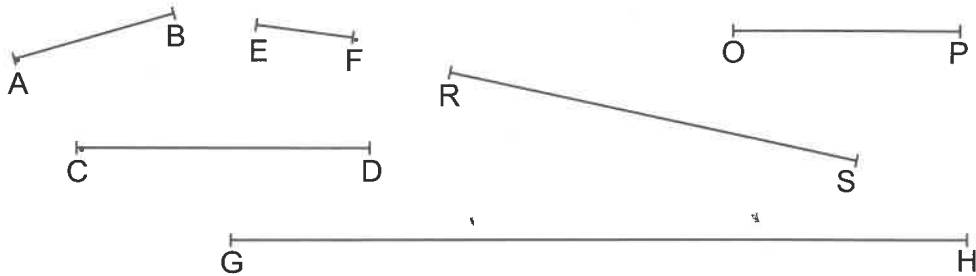
$|EF| = 13 \text{ mm}$

$|OP| = 30 \text{ mm}$

$|CD| = 39 \text{ mm}$

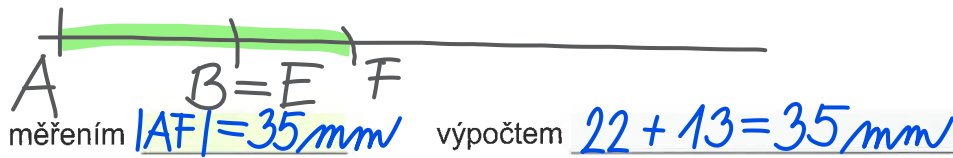
$|RS| = 55 \text{ mm}$

$|GH| = 97 \text{ mm}$

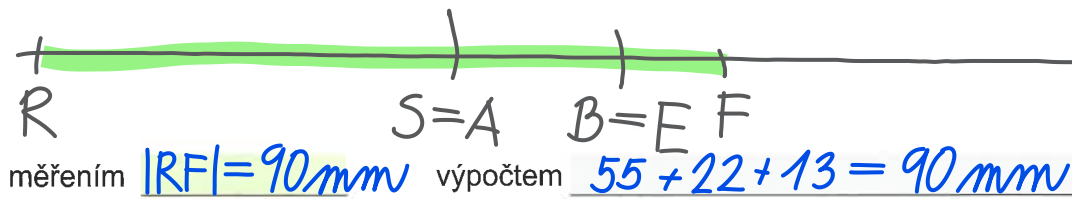


2. Proved' grafický součet úseček ze cvičení 1. Pak změř a zapiš výslednou délku. Svě měření ověř výpočtem.

a) **AB + EF**




b) **RS + AB + EF**



3. Proved' grafický rozdíl úseček ze cvičení 1. Pak změř a zapiš výslednou délku. Svě měření ověř výpočtem.

a) **GH - OP**



b) **CD - AB**

