

1.

Doplň popisky k diagramu podle údajů v tabulce.

Hra	Počet dětí
Lego City	52
Lego Friends	63
Lego Elfové	48
Lego Minecraft	86
Lego Creator	39



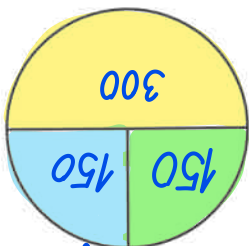
Obľíbenosť lego u dětí na 1. stupni ZŠ

- Lego Elfové
- Lego Creator
- Lego Minecraft
- Lego Friends
- Lego City

2.

Podle údajů v tabulce sestav kruhový diagram o počtu oběd uvařených v jídelně. Vybarvi ho a popiš.

Den	Počet obědů
Pondělí	150
Středa	300
Pátek	150

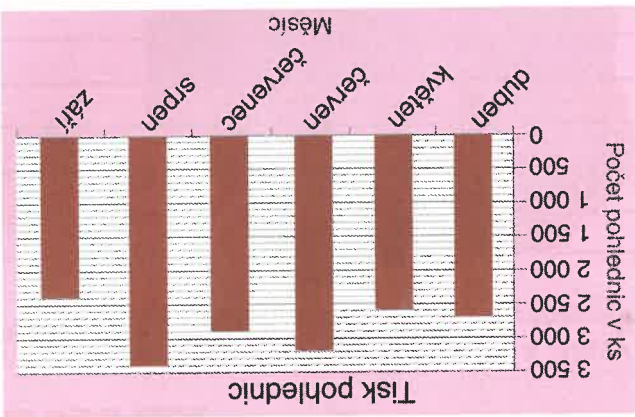


- Pondělí
- Středa
- Pátek

Počet uvařených obědů

3.

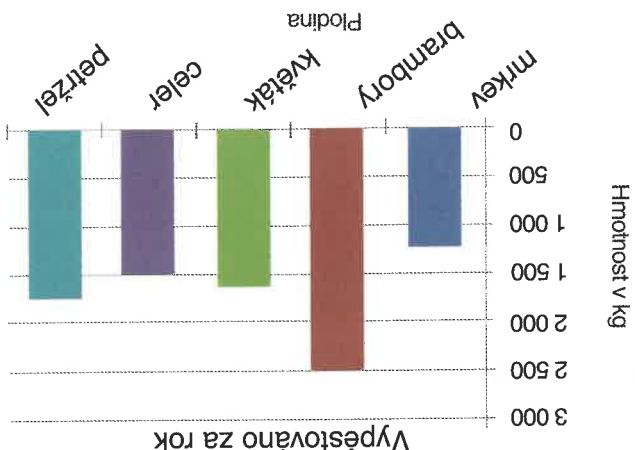
Vytři ze sloupkového diagramu, kolik pohlednic vytisknou v tiskárně každý měsíc a sestav tabulku.



Měsíc	Pohlednice (ks)

4.

Kolik kilogramů plodin pan Novák vypěstoval za rok? Rozhodni o pravdivosti tvrzení.



- 1 300 kg
- 2 500 kg
- 1 600 kg
- 1 500 kg
- 1 700 kg



- PRAVDA - LEŽ
- PRAVDA - LEŽ
- PRAVDA - LEŽ
- PRAVDA - LEŽ

a) Mrkev vypěstoval nejméně.
 b) Květáku a celeru vypěstoval dohromady o 700 kg více než brambor.
 c) Květáku vypěstoval o polovinu méně než celeru a petržele dohromady.
 d) Petržele a mrkve vypěstoval dohromady dvakrát více než celeru.