


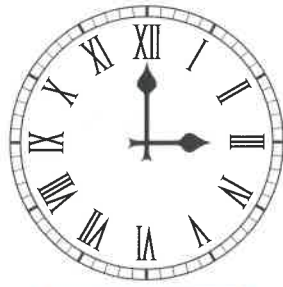
1. Dopln římské číslice.

| | | | | | | |
|--------|--------|----------|----------|------------|--------|-------------|
| 1 IVAN | 5 VEDL | 10 XENII | 50 LESNÍ | 100 CESTOU | 500 DO | 1 000 MĚSTA |
| I | V | X | L | C | D | M |

2. Přečti čísla na hodinách. Kolik je hodin?




6:17
18:17



3:00
15:00



1:48
13:48



9:22
21:22

3. Dopln číselnou řadu.

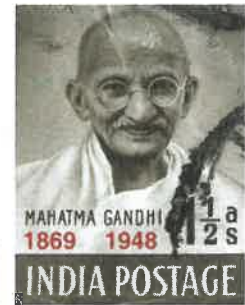
- a) I, II, III, IV, V, VI, VII, VIII, IX, X
 b) XIV, XV, XVI, XVII, XVIII, XIX, XX, XXI, XXII, XXIII

4. Světový den nenásilí slavíme 2. října, kdy se narodil indický vůdce Mahátma Gándhí. Vyčti z obrázku rok jeho narození a úmrtí. Vypočítej a zapiš do rámečku pomocí římských číslic, kolika let se dožil.

$$\begin{array}{r} 1948 \\ - 1869 \\ \hline 0079 \end{array}$$

79 = LXXIX

LXXIX



5. Zapiš daná čísla římskými číslicemi.

| | | | |
|-----------|-------------|--------------|--------------|
| 3 - III | 37 - XXXVII | 28 - XXVIII | 1950 - MCML |
| 9 - IX | 14 - XIV | 99 - LXXIX | 1200 - MCC |
| 46 - XLVI | 515 - DXV | 664 - DCLXIV | 2016 - MMXVI |

6. Přečti číslo zapsané římskými číslicemi a vybarvi správný zápis čísla arabskými číslicemi.



- a) XCVII 97 152 87 c) MDCCLXXVII 1 697 1 227 1 777
 b) CXCV 525 195 115 d) DCXXX 390 630 510

7. Petra jela s dědečkem na výlet do Kroměříže. Na domech si četla nápisy o roce, kdy byly postaveny: MDCXX, MDCCV, MCMX. Přečti a zapiš 3 čísla pomocí arabských číslic.

1620 1705 1910

8. Rozhodni o pravdivosti tvrzení.



- a) Česká republika vznikla v roce MCMXCIII.
 b) Mistr Jan Hus byl upálen v roce MCDXVII.
 c) Česká republika se připojila k Evropské unii v roce MMIV.
 d) Bitva na Bílé hoře proběhla v roce MDCIV.

- PRAVDA - LEŽ
 PRAVDA - LEŽ
 PRAVDA - LEŽ
 PRAVDA - LEŽ

