

Číslo větší než 10 000

Zaokrouhlování čísel

Zakroužkuj správnou odpověď.






- 1. Znak pro zaokrouhlování  
Číslo od 0 do 4 zaokrouhlujeme  
Číslo 600 999 zaokrouhlené na tisíce je
- 2. Číslo zaokrouhlí na desítky a zakroužkuj příslušnými barvami.

10 290      10 280      10 289      10 294      10 283      10 269      10 275      10 267      10 285      10 272

10 270

10 280

3. Zakrouhlí čísla u obrázků na stovky a zapíš je od nejmenšího po největší do tabulky. Počáteční písmena slov označujících obrázky napíš pod čísla a vylušti tajemku.

|   |        |  |        |   |        |   |        |   |        |
|---|--------|--|--------|---|--------|---|--------|---|--------|
|  | 50 269 |  | 51 937 |  | 50 123 |  | 50 455 |  | 50 999 |
| H   | 50 300 | R  | 51 900 | N   | 50 100 | F   | 50 500 | K   | 51 000 |
|   | 50 700 |  | 50 300 |   | 50 500 |   | 51 000 |   | 51 900 |

4. Zakrouhlí a zakroužkuj číslo, podle kterého zaokrouhluješ na tisíce, desetitisíce a statisíce.

|                   |           |           |           |
|-------------------|-----------|-----------|-----------|
| 512 852 ÷ 513 000 | 456 256 ÷ | 153 254 ÷ | 279 523 ÷ |
| 512 852 ÷ 510 000 | 456 256 ÷ | 153 254 ÷ | 279 523 ÷ |
| 512 852 ÷ 500 000 | 456 256 ÷ | 153 254 ÷ | 279 523 ÷ |

5. Číslo v prvním sloupci zaokrouhlí na desítky, stovky, tisíce, desetitisíce, statisíce.

|              |            |           |           |                 |              |
|--------------|------------|-----------|-----------|-----------------|--------------|
| Zaokrouhleno | Na desítky | Na stovky | Na tisíce | Na desetitisíce | Na statisíce |
| 154 093      |            |           |           |                 |              |
| 709 805      |            |           |           |                 |              |
| 803 460      |            |           |           |                 |              |

6. Vypočítej příklad na dominantní kartě a zaokrouhlí součin na tisíce. Zaokrouhlený součin vyhledej na další kartě a obdobně postupuj stále dál. Slabíky si zapisuj na rádek a dozviš se, jak se jmenuje nejznámější sopka v Mexiku.

|       |           |       |         |       |           |
|-------|-----------|-------|---------|-------|-----------|
| Start | 900 · 2   | TE    | 6 · 800 | KA    | 3 · 1 200 |
| PO    |           | 4 000 |         | 3 000 |           |
| PE    | 5 · 1 500 | PO    | 700 · 4 | TL    | 8 500 · 1 |
| 5 000 |           | 2 000 |         | 8 000 |           |

Tajenka:

7. V prodejně automobilů prodali za jeden den tři automobily Škoda. Po zaokrouhlení celé částky na desetitisíce prodejna utrátila 900 000, korun. Napiš alespoň 5 možností, kolik mohli skutečně utřít.