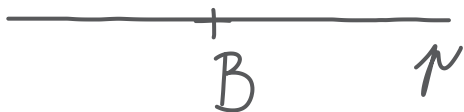
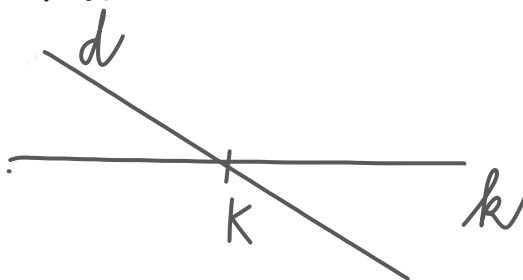


OPAKUJ SI

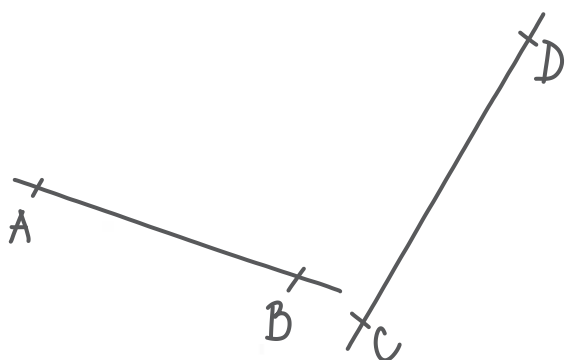
1. Vyznač bod **B**. Veď bodem **B** přímkou **p**:



2. a) Narýsuj přímkou **k**. Vyznač na ní bod **K**:
b) Narýsuj přímkou **d**, která prochází bodem **K**:



3. Narýsuj dvě různoběžky **AB** a **CD** tak, aby se ti „viditelně“ neprotínaly:



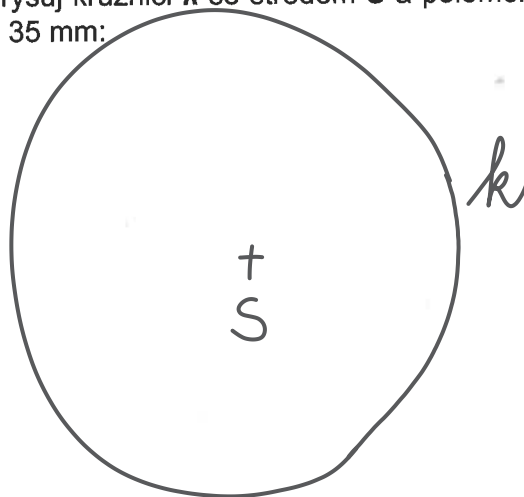
4. Narýsuj dvě opačné polopřímky s počátkem v bodě **A**. Polopřímky pojmenuj (vyznač na nich určující body):



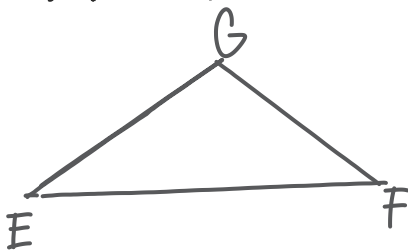
5. a) Narýsuj úsečku **EF** tak, aby $|EF| = 65 \text{ mm}$:



6. Narýsuj kružnici **k** se středem **S** a poloměrem $r = 35 \text{ mm}$:



b) Narýsuj libovolný $\triangle EFG$:



MOJE SEBEHODNOCENÍ

(Vybarvi smajlíka, který podle tebe nejlépe odpovídá tvým dovednostem.)

				Umím pojmenovat všechny probrané geometrické útvary a tělesa.
				Umím narýsovat přímkou, polopřímku a úsečku.
				Umím sestavit kružnici.