

1. Vypočítej:

$$\begin{array}{cccc}
 200 - 4 = \underline{196} & 700 - 9 = \underline{691} & 100 - 7 = \underline{93} & 200 - 1 = \underline{199} \\
 300 - 6 = \underline{294} & 400 - 1 = \underline{399} & 700 - 9 = \underline{691} & 400 - 6 = \underline{394} \\
 400 - 8 = \underline{392} & 500 - 3 = \underline{497} & 300 - 2 = \underline{298} & 800 - 9 = \underline{791} \\
 600 - 1 = \underline{599} & 800 - 5 = \underline{795} & 900 - 0 = \underline{900} & 900 - 4 = \underline{896}
 \end{array}$$

2. Řeš slovní úlohu:

V cukrárně prodali od pondělka do pátku 407 kopečků zmrzliny. Za víkend pak prodali o 8 kopečků méně než v pracovní dny.

Kolik kopečků zmrzliny prodali během víkendu?

pondělí-pátek 407
 víkend o 8 méně
 víkend ? $407 - 8 = 399$
 O víkendu prodali 399 kopečků zmrzliny.

3. Vypočítej pomocí číselných os nebo pomocí rozkladu:



$$604 - 6 = \underline{598}$$

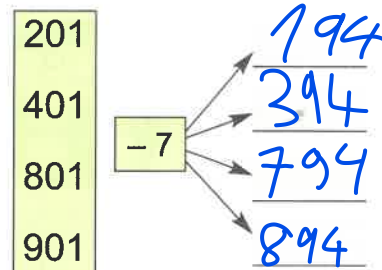
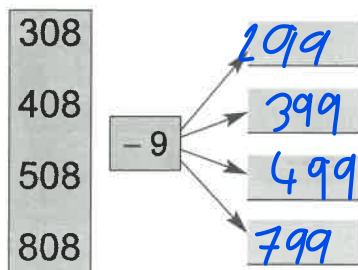
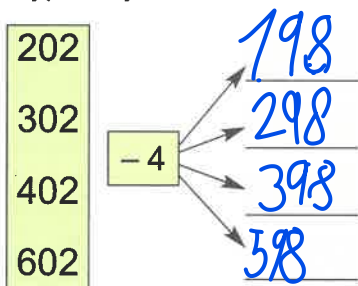
4 2



$$903 - 5 = \underline{898}$$

3 2

4. Vypočítej:



5. Řeš slovní úlohu, navrhni postup:

Ptáčkoví si zašli do cukrárny. Objednali si 4 malé zákusky po devíti korunách a 4 džusy po dvaceti pěti korunách. **Kolik korun celkem zaplatili?**

6. Do rámečků zapiš takové příklady, jejichž výsledek je číslo 903:

$896 + 7$		
-----------	--	--