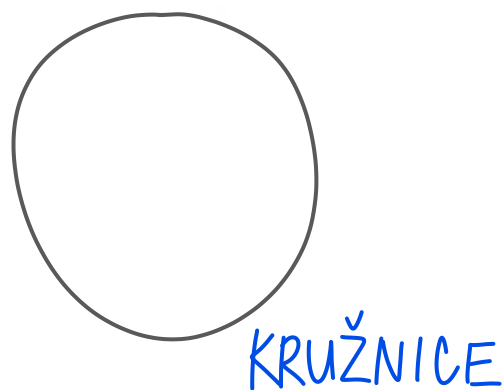
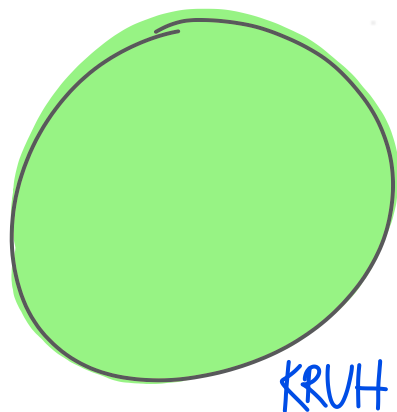
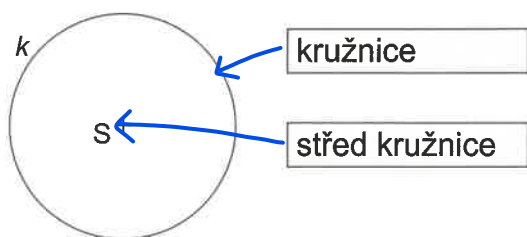


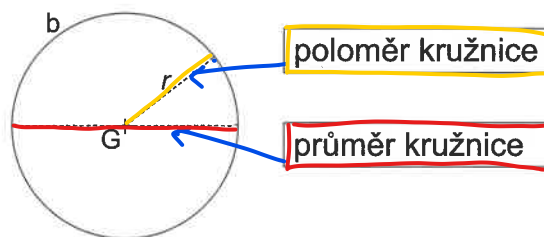
- Obkresli nějaké dva (nebo i více) kruhové předměty – například dno kelímku, žeton, minci...
  - Jeden (více) z obkreslených útvarů uvnitř vybarvi.
  - Obrázky popiš – rozhodni, který je kruh a který kružnice.



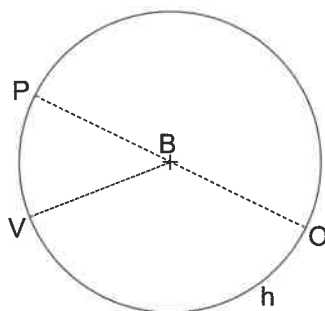
2. Přiřaď pomocí šipek správně názvy:



3. Přiřaď pomocí šipek správně názvy:

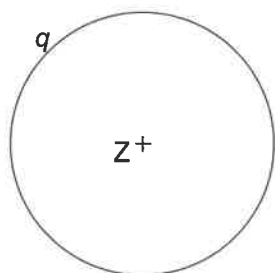


4. Nejprve odhadni poloměr a průměr kružnice  $h$ , pak je změř a porovnej, o kolik ses mýlíl(a):



	ODHAD cm	MĚŘENÍ cm	ROZDÍL cm
poloměr			
průměr			

- Vyznač body **A**, **B** tak, aby ležely na kružnici  $q$ .
  - Vyznač body **M**, **N** tak, aby neležely na kružnici  $q$ :



6. Narýsuj přímku  $p$  tak, aby protínala kružnici  $f$  ve dvou bodech (**C**, **D**):

