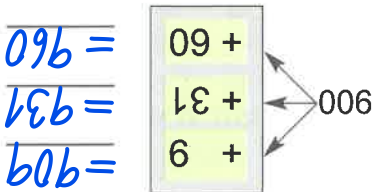
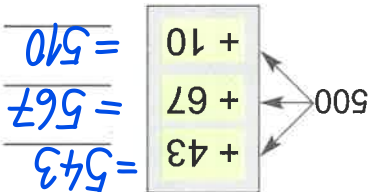
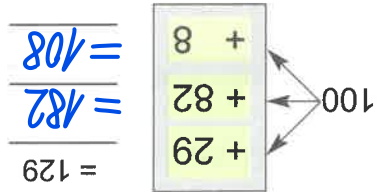


1. Tvůr příklady a počítej:



2. Reš slovní úlohu:

Malíř ilustruje knihu. Už má hotovo 200 stran a zbývá mu ještě nakreslit obrázky k dvaceti pěti stranám. Kolik stran má malíř celkem ilustrovat?

hotovo 200 stran
 kresby 25 stran
 celkem ?
 $200 + 25 = 225$
 Malíř má ilustrovat celkem 225 stran.

4. Vypočítej z paměti, zapis odpověď:

Do prodejny knih dostali novou knihu o zvířatech. V prvním měsíci po vydání bylo prodáno 100 kusů této knihy, ve druhém měsíci o 76 kusů více. Kolik knih bylo prodáno druhý měsíc?

176

5. Zapiš číslo, které má:

3 stovky 2 desítky a 6 jednotek 326
 8 stovek 4 desítky a 7 jednotek 847
 6 stovek 0 desítek a 2 jednotky 602

8 stovek 5 desítek a 4 jednotky 854
 9 stovek 0 desítek a 9 jednotek 909
 5 stovek 7 desítek a 3 jednotky 573

3. Dopln:

$300 + 82 = 382$
 $600 + 45 = 645$
 $500 + 56 = 456$
 $900 + 60 = 960$
 $800 + 93 = 893$
 $500 + 1 = 501$
 $200 + 98 = 298$
 $632 - 32 = 600$
 $706 - 6 = 700$
 $112 - 12 = 100$
 $374 - 74 = 700$

6. Opakuj si. Vypočítej, výsledky zaokrouhli:

$50 + 20 = 70 \approx 100$
 $30 + 20 = 50 \approx 100$
 $20 + 60 = 80 \approx 100$
 $60 + 30 = 90 \approx 100$
 $40 + 20 = 60 \approx 100$
 $10 + 50 = 60 \approx 100$
 $90 + 10 = 100 \approx 100$

7. Navrhni ilustraci – tituliň stranu ke knize Král počtář: